



**1. Zähle die Seitenflächen, Ecken, Kanten und Spitzen.  
Fülle die Tabelle aus!**



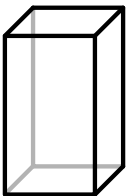
	Würfel	Kegel	Kugel	Quader	Pyramide
Seitenflächen	6				
Ecken	8				
Kanten	12				
Spitzen	0				

Vergleiche nun mit anderen Kindern!


**2. Finde im Klassenraum oder zu Hause Gegenstände, die diese Formen haben. Schreibe sie dazu!**



Schuhschachtel, \_\_\_\_\_



Hochhaus, \_\_\_\_\_



Murmel, \_\_\_\_\_



## Information für Lehrer/innen

### → Hinweise für den Einsatz des Arbeitsblattes

Dieses Arbeitsblatt dient der Festigung der Inhalte zum Thema „Geometrische Körper“. Sehr nützlich ist es, diese geometrischen Körper so früh wie möglich zu inspizieren und genau zu analysieren, da diese für die Kinder selbstverständlich sind. Da sie im Alltag häufig vorkommen, glauben die Kinder, dass sie diese Körper bereits gut kennen. Beim genauen Betrachten stellt sich jedoch heraus, dass sie die Sachverhalte und Eigenschaften noch nicht so gut artikulieren können.

Das Arbeitsblatt soll erst nach der Bearbeitung von Seite 21 der Mini-SPATZENPOST eingesetzt werden.